


ESTUDIOS SOCIALES, GUÍA N°8, JUNIO, 2°NIVEL (3ro y 4to). MÓDULO I: Escenario internacional del siglo XX y características demográficas, geográficas y cultural del mundo actual. Unidad 2: Características demográficas y diversidad cultural en el mundo actual.

Contenidos: Factores de dinámica de población tipos de pirámides y problemáticas demográficas.

NOMBRE _____ CURSO _____ RUT: _____



¿Qué es la demografía?: “Demografía es la ciencia que estudia la población humana en continuo cambio, considerando los ámbitos cuantitativos (estado) y cualitativo (dinámica), incluyendo el pasado y el presente, con el propósito de anticipar eventuales variaciones futuras. La relevancia de esta disciplina radica en que la información que aporta es fundamental para diseñar y planificar políticas tendientes al desarrollo social y económico de los pueblos.” (INE)

Los datos demográficos son información general sobre grupos de personas. Dependiendo de la finalidad, los datos pueden incluir atributos como la edad, el sexo y el lugar de residencia, así como características sociales como la ocupación, la situación familiar o los ingresos.

Cifras demográficas a nivel mundial:

Un 60% de la población mundial vive en Asia (4.400 millones).

Un 16% en África (1.200 millones).

Un 10% en Europa (738 millones).

Un 9% en Latinoamérica y el Caribe (634 millones).

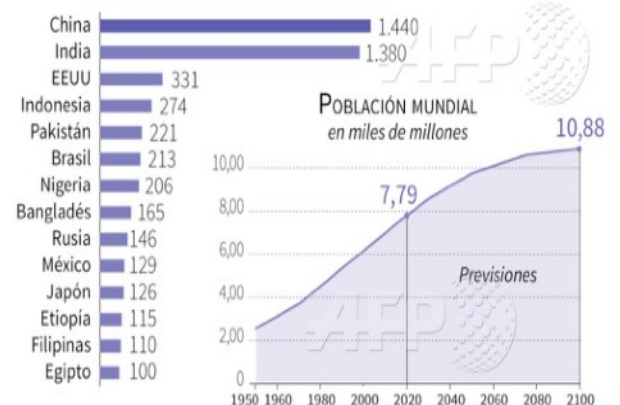
El 4,85% en América del Norte (358 millones)

Y un 0,5 Oceanía (39 millones).

Los países más poblados del mundo

La población de Egipto alcanzó 100 millones de habitantes el 11 de febrero

POBLACIÓN ESTIMADA PARA 2020 en millones



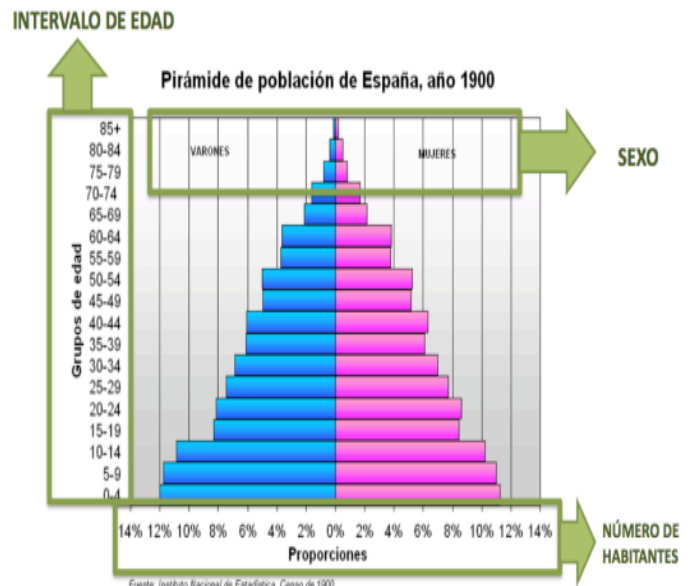
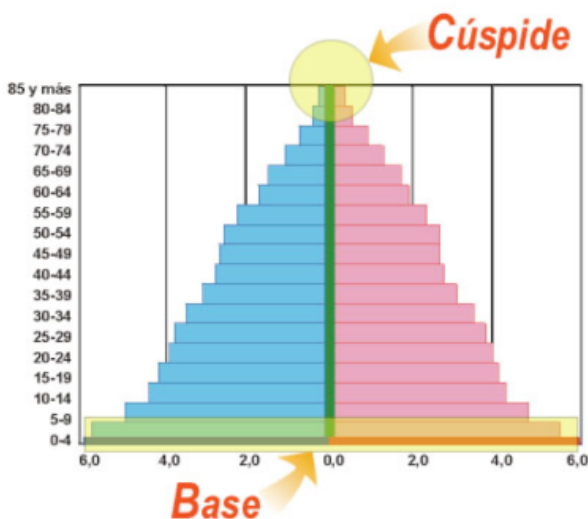
Fuente: population.un.org

¿Qué es una pirámide de población?

Un gráfico de barras que expresa la estructura de una población en un momento determinado organizada por grupos de edades y sexo. Estos elementos los podemos reconocer en los siguientes gráficos:

¿Cómo es una pirámide de población?

Elementos de una pirámide



Pirámide joven: Se llama así porque indica una mayor cantidad de población joven; esto se refleja en que la base de la pirámide es muy ancha, mientras que, avanzando en los grupos de edades, la cúspide de la figura se hace cada vez más delgada.

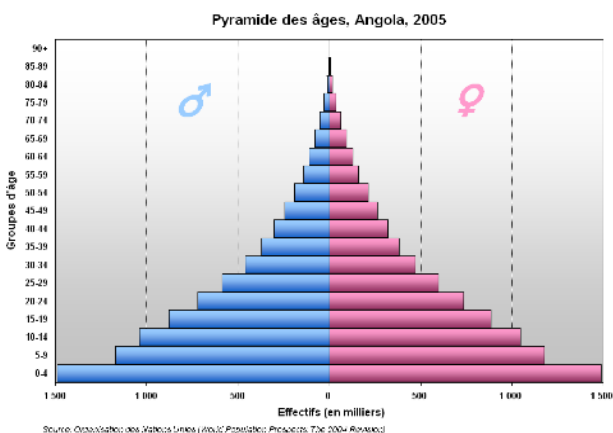
Pirámide de transición: Esta pirámide toma ese nombre porque indica que se está avanzando de una población predominantemente joven, a una sociedad preferentemente adulta. Esto se refleja en que se torna más ancha hacia arriba mientras en más grupos de edad se avanza.

Pirámide madura u ojival: Esta pirámide indica la disminución de la población joven y el gran aumento de los adultos. Por ello, la pirámide se ensancha en la mitad del gráfico, tomando una forma ojival.

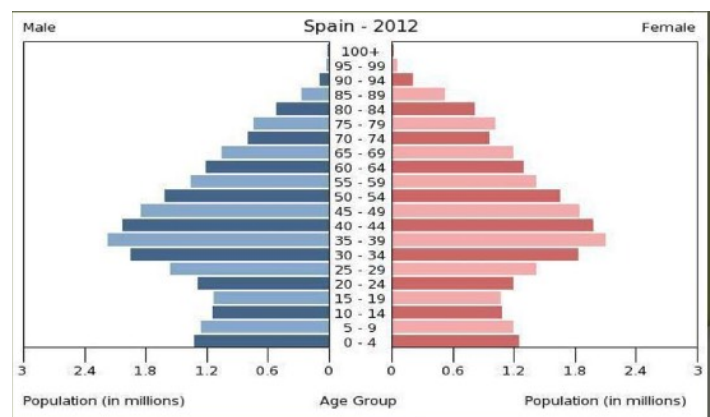
Pirámide regresiva: Aquí disminuye drásticamente la población joven para dar paso a una gran cantidad de adultos y ancianos; esto es propio de países con baja natalidad (concepto que veremos más adelante).

Desarrollo de Actividad (28 pts.) 

1. ¿Qué es la demografía? (3 pts.)
2. ¿Cuál el continente más poblado y el menos poblado del mundo utilizando los datos vistos? y ¿Qué porcentaje de población a nivel mundial albergan el continente más poblado y el menos poblado? (6 pts.)
3. ¿Cuáles son los 3 elementos que conforman una pirámide de población? (3 pts.)
4. **Observe las pirámides de población:**
 1. ¿Qué indica la pirámide joven respecto de la población adulta? (5pts.)
 2. En la pirámide ojival, ¿qué nos indican las tres últimas barras superiores en relación a las mujeres? (5pts.)




Pirámide Joven



Pirámide Ojival

5. ¿Desde lo aprendido y sus conocimientos, mencione y explique 3 problemáticas que pueden tener los países y continentes que se encuentran sobrepoblados? (6 pts.)

¿Quieres complementar tus conocimientos? Revisa los siguientes videos:		
	Pirámide de población	https://www.youtube.com/watch?v=xTdgujJjNEI
	Características demográficas del Chile actual	https://www.youtube.com/watch?v=eGg9eXMPHZY
	Problemáticas demográficas.	https://www.youtube.com/watch?v=B2yyFDApWZk



Exito